



第四单元综合测试卷


——表内乘法(一)

(时间:60 分钟 满分:100 分+10 分)

题号	一	二	三	四	五	六	七	总分	+	附加题
得分										

一 我会填。(每空 1 分,共 32 分)

1. 看图写算式。



加法算式:_____

乘法算式:_____或_____

2. 4 个 6 相加,和是()。

3. $2 \times 5 = ()$,读作(),所用口诀是()。

4. 一个乘数是 6,另一个乘数是 3,积是()。

5. 把口诀填写完整。

二四() ()得九 四()二十四
()十六 ()十八 三四()

6. 用一句口诀写出两道乘法算式。

四六二十四

二四得八

三五十五

7. 把下面的加法算式改写成乘法算式。

$3 + 3 + 3 + 3 = () \times ()$

$23 + 23 + 23 = () \times ()$


① 考生要写清校名、姓名和班级
② 不在试卷上做任何标识
③ 字迹要清楚,卷面要整洁

姓 名

班 级

学 校

考 号



8. 在○里填上“+”、“-”或“×”。

$3 \bigcirc 3 = 6$

$5 \bigcirc 5 = 10$

$6 \bigcirc 6 = 0$

$4 \bigcirc 0 = 4$

$6 \bigcirc 1 = 6$

$5 \bigcirc 4 = 20$

二 判断题。(对的打“√”,错的打“×”)(5 分)

1. 计算 2×4 和 4×2 可用同一句乘法口诀。 ()

2. 一个乘数是 4,另一个乘数是 3,积是 7。 ()

3. 2×2 的积与 $2 + 2$ 的和相等。 ()

4. $5 + 5 + 5 + 5 + 4 = 5 \times 5 + 1$ 。 ()

5. 一只青蛙 4 条腿,5 只青蛙 20 条腿。 ()

三 选一选。(把正确答案的序号填在括号里)(5 分)

1. 求几个相同的数相加的和,用()计算比较简便。

①加法

②减法

③乘法

2. 10 个 5 相加,算式是()。

① $10 + 5$

② 5×10

③ $5 + 5 + 5 + 5 + 5$

3. 与 $6 \times 2 + 6$ 结果相等的是()。

① 6×3

② 6×4

③ 6×2

4. 汉字“日”的笔画是 4 画,汉字“晶”的笔画是()画。

① 8

② 12

③ 9

5. 吃饭时每人需要一双筷子,6 个人需要()根筷子。

① 6

② 2

③ 12

四 算一算。(20 分)

$6 \times 5 =$

$4 \times 5 =$

$5 + 3 =$

$4 \times 2 =$

$3 \times 3 =$

$3 \times 6 =$

$5 + 5 =$

$3 \times 4 =$

$6 \times 3 - 6 =$

$4 \times 2 + 17 =$

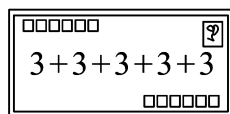
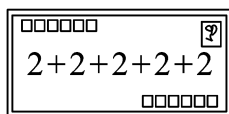



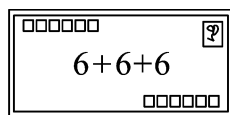
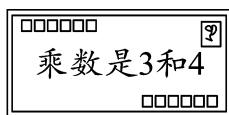
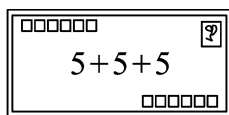
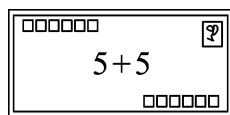
$6 \times 5 + 27 =$

$5 \times 4 - 8 =$

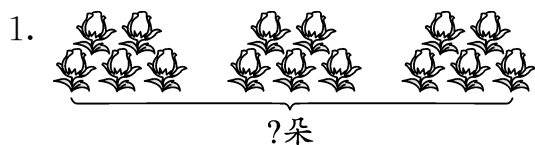
$6 \times 6 - 20 =$

$3 \times 5 + 9 =$

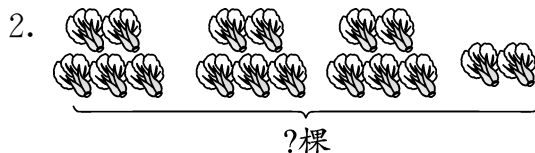
五 小象送信。(连一连)(8 分)



六 看图列式计算。(6 分)




$$\square \bigcirc \square = \square (\quad)$$



$$\square \bigcirc \square \bigcirc \square = \square (\quad)$$

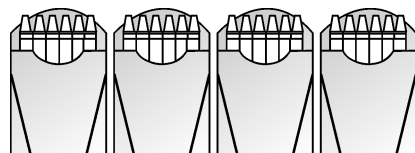
七 解决问题我能行。(共 24 分)

1. 一共有多少个轮子?(3 分)



2. 一张彩纸可以做 3 朵花,5 张这样的彩纸可以做多少朵花?(3 分)

3. 一共有多少支笔?(3 分)



4. 校园里种了 3 行柳树, 每行 6 棵, 还种了两行杨树, 一行 3 棵, 另一行 6 棵。(6 分)

(1) 一共种了多少棵柳树? (3 分)

(2) 一共种了多少棵杨树? (3 分)

5. 面包店的小面包有 4 个装一袋的, 有 5 个装一袋的, 也有 6 个装一袋的。(9 分)



(1) 买 5 袋 6 个装的, 一共买了多少个面包? (3 分)

(2) 买 4 袋 5 个装的和 1 袋 4 个装的, 一共买了多少个面包? (3 分)

(3) 你还能提出其它数学问题并解答吗? (3 分)



智力冲浪(附加题)

每人 1 个苹果、2 个梨, 一共需要多少个水果? (10 分)

